

ΧΗΜΕΙΑ

ΘΕΤΙΚΗΣ ΚΑΤΕΥΘΥΝΣΗΣ Γ' ΛΥΚΕΙΟΥ

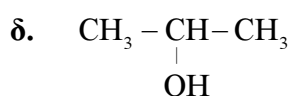
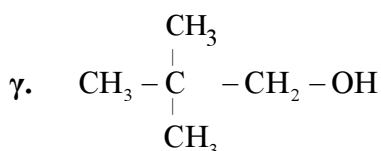
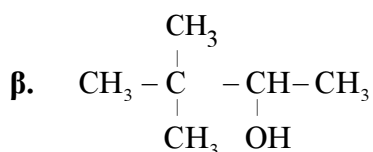
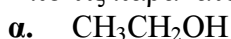
6 ΙΟΥΝΙΟΥ 2014

ΕΚΦΩΝΗΣΕΙΣ

ΘΕΜΑ Α

Για τις προτάσεις Α1 έως και Α5 να γράψετε στο τετράδιό σας τον αριθμό της πρότασης και, δίπλα, το γράμμα που αντιστοιχεί στη σωστή επιλογή.

A1. Από τις παρακάτω αλκοόλες δεν αφυδατώνεται προς αλκένιο η



Μονάδες 5

A2. Με προσθήκη νερού σε αλκίνιο, παρουσία Hg, HgSO₄ και H₂SO₄, μπορεί να παραχθεί

- α. μόνο κετόνη
- β. καρβονυλική ένωση
- γ. κυανιδρίνη
- δ. αλκοόλη.

Μονάδες 5

A3. Από όλα τα στοιχεία της 2^{ης} περιόδου του περιοδικού πίνακα τη χαμηλότερη τιμή ενέργειας 1^{ου} ιοντισμού (E_{i1}) έχει

- α. το αλκάλιο
- β. η αλκαλική γαία
- γ. το αλογόνο
- δ. το ευγενές αέριο.

Μονάδες 5

A4. Το χημικό στοιχείο X με ηλεκτρονιακή δομή [Ar]3d¹⁰4s²4p⁵ ανήκει στην

- α. 4^η περίοδο και στην 7^η ομάδα του περιοδικού πίνακα
- β. 4^η περίοδο και στην 17^η ομάδα του περιοδικού πίνακα
- γ. 5^η περίοδο και στην 4^η ομάδα του περιοδικού πίνακα
- δ. 4^η περίοδο και στην 5^η ομάδα του περιοδικού πίνακα.

Μονάδες 5

A5. Όξινο διάλυμα είναι το διάλυμα του

- α. CH_3COONa 0,1 M
- β. $\text{CH}_3\text{NH}_3\text{Cl}$ 0,1 M
- γ. KCN 0,1 M
- δ. NaCl 0,1 M

Μονάδες 5

ΘΕΜΑ Β

B1. Να χαρακτηρίσετε τις προτάσεις που ακολουθούν, γράφοντας στο τετράδιό σας δίπλα στο γράμμα που αντιστοιχεί σε κάθε πρόταση, τη λέξη **Σωστό**, αν η πρόταση είναι σωστή, ή **Λάθος**, αν η πρόταση είναι λανθασμένη.

- α. Το ^{17}Cl σχηματίζει ενώσεις με ένα μόνο ομοιοπολικό δεσμό.
- β. Διάλυμα NaHSO_4 0,1 M έχει $\text{pH} > 7$ στους 25°C .
- γ. Διάλυμα NaHCO_3 1 M και Na_2CO_3 1 M είναι ρυθμιστικό διάλυμα.
- δ. Στην ένωση $\text{CH}_2=\text{CH}-\text{CH}=\text{CH}_2$ όλα τα άτομα του άνθρακα έχουν sp^2 υβριδικά τροχιακά.
- ε. Η προσθήκη HCN σε καρβονυλική ένωση είναι αντίδραση ανοικοδόμησης.

Μονάδες 10

B2. α. Να αναφέρετε δύο διαφορές μεταξύ του σ και του π δεσμού.

(μονάδες 4)

β. Οι τέσσερις πρώτες ενέργειες ιοντισμού ενός στοιχείου είναι αντίστοιχα

$$E_{i1} = 738 \text{ kJ/mol} \quad E_{i2} = 1450 \text{ kJ/mol}$$

$$E_{i3} = 7,7 \cdot 10^3 \text{ kJ/mol} \quad E_{i4} = 1,1 \cdot 10^4 \text{ kJ/mol}$$

Σε ποια ομάδα του περιοδικού πίνακα ανήκει το στοιχείο αυτό και γιατί;

(μονάδες 4)

γ. Δίνεται πρωτολυτικός δείκτης $\text{H}\Delta$ με $\text{p}K_a = 5$. Αν ο δείκτης προστεθεί σε ένα διάλυμα χυμού μήλου, που έχει $\text{pH} = 3$, τι τιμή θα έχει ο λόγος $[\Delta^-] / [\text{H}\Delta]$; Με δεδομένο ότι η όξινη μορφή του δείκτη έχει χρώμα κόκκινο και η βασική κίτρινο, τι χρώμα θα αποκτήσει το διάλυμα;

(μονάδες 3)

δ. Διάλυμα άλατος NH_4A έχει $\text{pH} = 8$. Με δεδομένο ότι η K_b της NH_3 είναι 10^{-5} να εξετάσετε αν η τιμή K_a του HA είναι μεγαλύτερη, μικρότερη ή ίση του 10^{-5} .

$$\text{Δίνεται } K_w = 10^{-14}$$

(μονάδες 4)

Μονάδες 15

ΘΕΜΑ Γ

Γ1. α. Σε ένα δοχείο περιέχεται 1-πεντίνιο ή 2-πεντίνιο. Πώς θα διαπιστώσετε ποια από τις 2 ουσίες περιέχεται στο δοχείο;

(μονάδες 2)

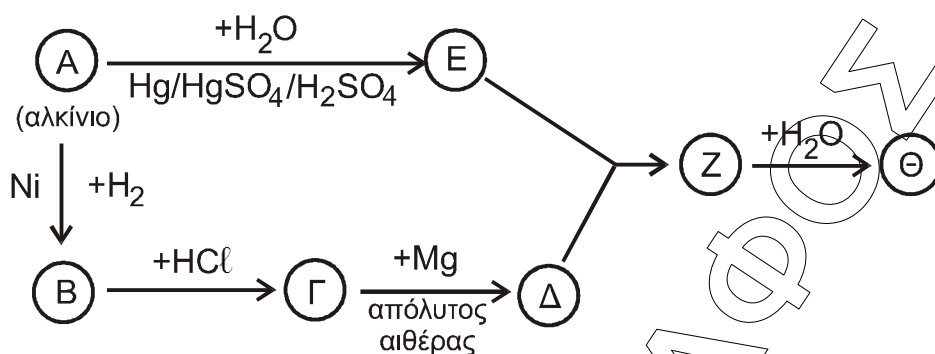
β. Σε δύο δοχεία περιέχονται μεθανικός μεθυλεστέρας (HCOOCH_3) και αιθανικός αιθυλεστέρας ($\text{CH}_3\text{COOCH}_2\text{CH}_3$). Δεν ξέρουμε όμως σε ποιο δοχείο περιέχεται η κάθε ουσία. Πώς θα διαπιστώσετε σε ποιο δοχείο περιέχεται η καθεμία;

(μονάδες 4)

(Και στα δύο παραπάνω ερωτήματα να γράψετε τις χημικές εξισώσεις που τεκμηριώνουν την απάντησή σας).

Μονάδες 6

Γ2. Δίνεται το παρακάτω διάγραμμα χημικών διεργασιών.



Με δεδομένο ότι η ένωση Θ αλλάζει το χρώμα όξινου διαλύματος $K_2Cr_2O_7$ από πορτοκαλί σε πράσινο, να γράψετε τους συντακτικούς τύπους των ενώσεων Α, Β, Γ, Δ, Ε, Ζ και Θ.

Μονάδες 7

Γ3. Ομογενές μίγμα δύο κορεσμένων μονοσθενών αλκοολών (Α) και (Β) μάζας 44,4 g χωρίζεται σε τρία ίσα μέρη.

- Στο 1^ο μέρος προσθέτουμε περίσσεια Na, οπότε ελευθερώνονται 2,24 L αερίου σε πρότυπες συνθήκες (stp).
- Στο 2^ο μέρος προσθέτουμε περίσσεια $SOCl_2$ και στα οργανικά προϊόντα που προκύπτουν επιδρούμε με Mg σε απόλυτο αιθέρα. Στη συνέχεια προσθέτουμε νερό, οπότε προκύπτει ένα (1) μόνο οργανικό προϊόν.
- Στο 3^ο μέρος προσθέτουμε διάλυμα $I_2/NaOH$, οπότε καταβυθίζονται 0,05 mol κίτρινου ιζήματος.

Να προσδιορίσετε το συντακτικό τύπο και την ποσότητα σε mol της κάθε αλκοόλης στο αρχικό μίγμα.

Δίνονται: $Ar(H) = 1, Ar(C) = 12, Ar(O) = 16$

Μονάδες 12

ΘΕΜΑ Δ

Σε πέντε δοχεία περιέχονται τα επόμενα διαλύματα:

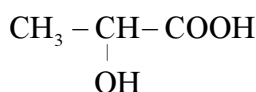
- διάλυμα $NaNO_3$ 0,1 M (Y1)
- διάλυμα NH_3 0,1 M (Y2)
- διάλυμα HCl 0,1 M (Y3)
- διάλυμα $NaOH$ 0,1 M (Y4)
- διάλυμα NH_4Cl 0,1 M (Y5)

Δ1. Να βρείτε ποιο διάλυμα περιέχεται σε κάθε δοχείο με βάση τα δεδομένα του παρακάτω πίνακα

Δοχείο	1	2	3	4	5
pH	1	5	7	11	13

Μονάδες 5

Δ2. Το κυριότερο όξινο συστατικό του ξινισμένου γάλακτος είναι το γαλακτικό οξύ



α. Για την ογκομέτρηση 10 mL του ξινισμένου γάλακτος απαιτούνται 5 mL διαλύματος $NaOH$ 0,1 M. Να υπολογίσετε τη συγκέντρωση του γαλακτικού οξέος

στο ξινισμένο γάλα (κανένα άλλο συστατικό του γάλακτος δεν αντιδρά με NaOH).

(μονάδες 3)

- β. Να προτείνετε από μία εργαστηριακή δοκιμασία για την ανίχνευση της καρβοξυλομάδας και της υδροξυλομάδας του γαλακτικού οξέος.
(Να γράψετε τις σχετικές χημικές εξισώσεις).

(μονάδες 2)

Μονάδες 5

- Δ3. Με ποια αναλογία όγκων πρέπει να αναμείξουμε το διάλυμα Y4 (NaOH) με το διάλυμα Y5 (NH₄Cl), ώστε να προκύψει ρυθμιστικό διάλυμα (Y6) με pH = 9.

Μονάδες 9

- Δ4. Σε ίσους όγκους V των διαλυμάτων

Y2 (NH₃ 0,1 M)

Y4 (NaOH 0,1 M)

Y6 (NH₃ / NH₄Cl)

προστίθεται νερό όγκου x L, y L, ω L αντίστοιχα, ώστε να μεταβληθεί το pH τους κατά μία μονάδα. Να διατάξετε κατά αύξουσα σειρά τις τιμές x , y , ω και να αιτιολογήσετε την απάντησή σας.

Μονάδες 6

- Τα δεδομένα του προβλήματος επιτρέπουν τις γνωστές προσεγγίσεις.
- Δίνονται $K_W = 10^{-14}$ και $\theta = 25^\circ\text{C}$.